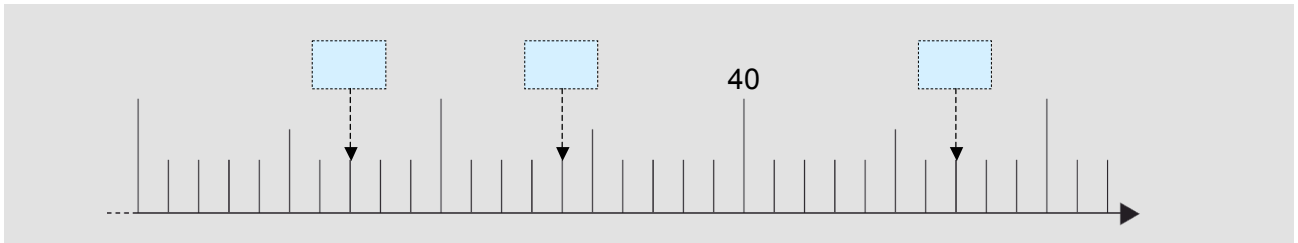
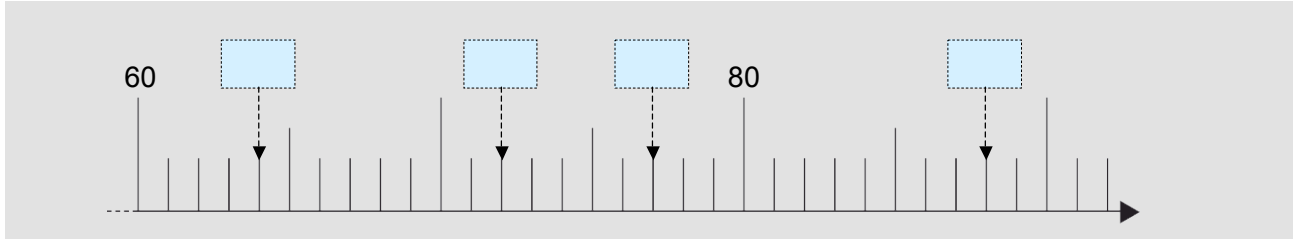


Der Zahlenstrahl

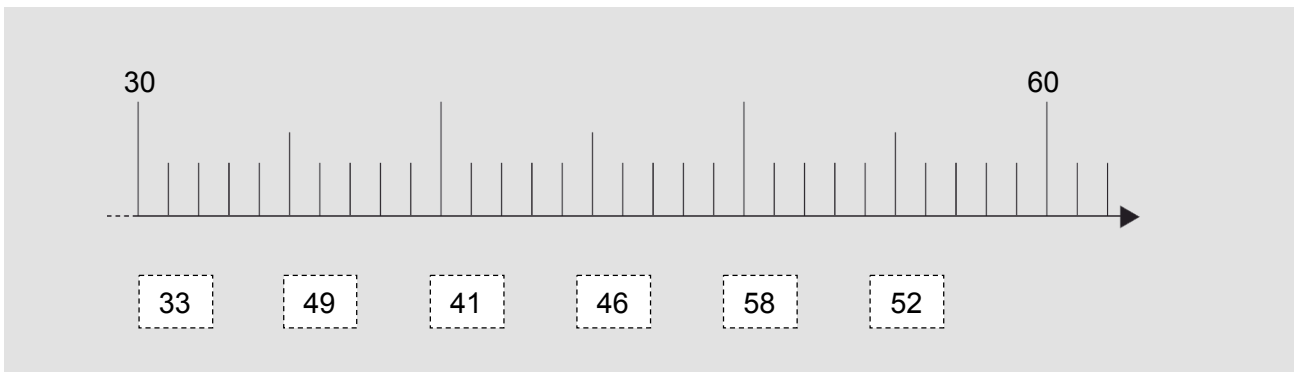
Lernkontrolle

1. Beschrifte die Markierungen.



7 Pkt.

2. Verbinde die Zahl mit ihrer Markierung auf dem Strahl.



6 Pkt.

3. Nachbarzahlen

<input type="text"/>	<input type="text"/>	5	2	<input type="text"/>	<input type="text"/>	<input type="text"/>	<input type="text"/>	<input type="text"/>	<input type="text"/>	<input type="text"/>	
3	9	<input type="text"/>	<input type="text"/>	<input type="text"/>	<input type="text"/>	6	5	<input type="text"/>	<input type="text"/>	6	7
<input type="text"/>	<input type="text"/>	<input type="text"/>	<input type="text"/>	7	0	<input type="text"/>	<input type="text"/>	<input type="text"/>	<input type="text"/>	2	5

6 Pkt.

4. Ordne die Zahlen nach ihrer Reihenfolge auf dem Zahlenstrahl.

27, 72, 24

--	--	--	--	--	--

83, 36, 68

--	--	--	--	--	--

2 Pkt.

5. Zähle in Zehnersprüngen vorwärts.

4 | 3

--	--	--	--	--	--

6 | 6

--	--	--	--	--	--

3 Pkt.

6. Wo liegen 48 und 81 auf dem leeren Zahlenstrahl?

 Zeichne ein.



24 Pkt.

