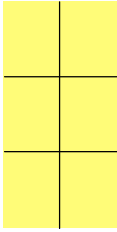


# Einführung der Multiplikation

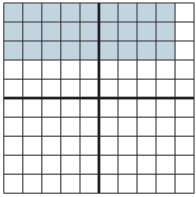
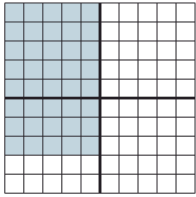
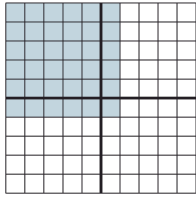
## Lernkontrolle

### 1. Zeichne und schreibe die Rechnung auf.

<p>Im Gang stehen 7 Paar Schuhe.</p> <p><input type="text"/> · <input type="text"/></p>	<p>Die Mutter kauft 3 Schachteln Eier. In einer Eierschachtel sind 6 Eier.</p> <p><input type="text"/> · <input type="text"/></p>	 <p><input type="text"/> · <input type="text"/></p>
---	---	--

5 Pkt.

### 2. Schreibe die Rechnung auf und rechne sie aus.

 <p><input type="text"/> · <input type="text"/> = <input type="text"/></p>	 <p><input type="text"/> · <input type="text"/> = <input type="text"/></p>	 <p><input type="text"/> · <input type="text"/> = <input type="text"/></p>
--	--	--

6 Pkt.

### 3. Rechne aus.

$7 \cdot 5 = \text{$

$9 \cdot 10 = \text{$

$7 \cdot 2 = \text{$

$3 \cdot 5 = \text{$

$5 \cdot 5 = \text{$

$9 \cdot 2 = \text{$

$2 \cdot 2 = \text{$

$6 \cdot 10 = \text{$


$10 \cdot 5 = \text{$

$8 \cdot 2 = \text{$

$8 \cdot 5 = \text{$

$4 \cdot 10 = \text{$

12 Pkt.



23 Pkt.