



Kindergeburtstag Lernkontrolle

1. Rechne aus.

- a. Verteile 20 Hamburger auf 5 Teller.
Wie viele Hamburger hat es auf einem Teller?
Schreibe die Rechnung dazu.

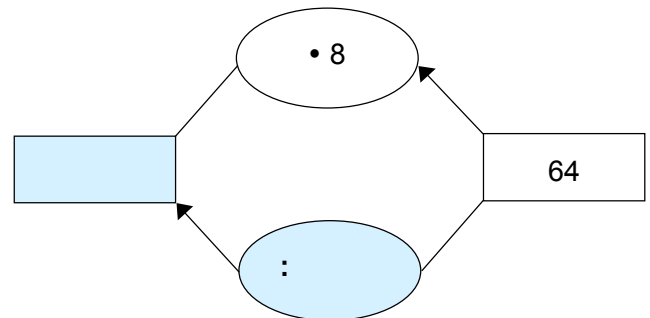
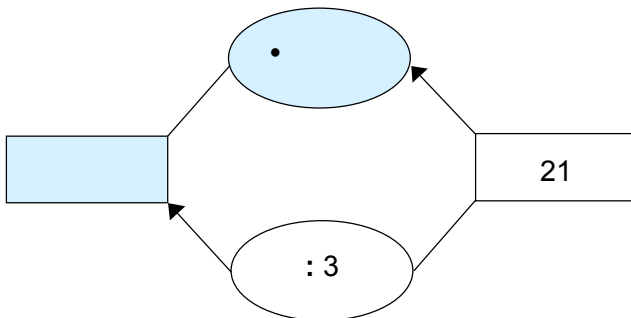


- b. Verteile 9 Geschenke in 3 Säcke.
Wie viele Geschenke sind in jedem Sack?
Schreibe die Rechnung dazu.



2 Pkt.

2. Maschinenrechnen



2 Pkt.

3. Dividiere.

a. $70 : 7 =$

$36 : 9 =$

$56 : 8 =$

b. $27 : 3 =$

$40 : 5 =$


$12 : 4 =$

c. $50 : 6 =$ Rest

$16 : 3 =$ Rest

$27 : 5 =$ Rest

9 Pkt.



13 Pkt.