


Uhrzeit Lernkontrolle

1. Was ist wann? Verbinde.

Morgenessen


Mittagessen

Grosse Pause



3 Pkt.

2. Schreibe die Minutenzahlen.



6 Pkt.

3. Zeichne die Zeiger oder schreibe die Uhrzeit



8:15



2:40



5:55



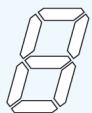
88:88




88:88

5 Pkt.

4. Welche Zahlen werden mit 5 Balken angezeigt?





14 Pkt.