

# Kilogramm und Gramm

## Lernkontrolle

### 1. Säcke ordnen.

Nummeriere diese Säcke nach ihrem Gewicht. Beginne mit dem schwersten Sack.




2 kg 350 g



45 g



630 g



35 kg

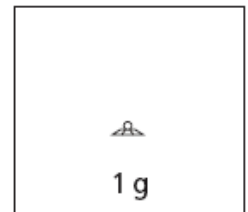
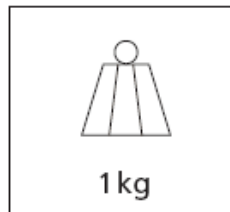
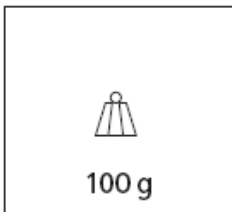


6 g

5 Pkt.

### 2. Gewichte Schätzen

Verbinde alle Gegenstände durch farbige Linien mit dem passenden Gewicht



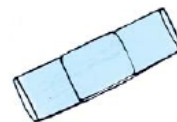
WC-Rolle



Patrone



Handy



Pflaster



Krug

5 Pkt.

### 3. Richtig oder falsch?

Kreuze die richtigen Sätze an.

Ein Sack Popcorn ist leichter als 1 kg.

1 kg ist schwerer als 100 g.

Eine Tafel Schokolade wiegt 100 kg

Ein dickes Buch ist schwerer als ein Sack mit 10 kg Äpfeln.


4 Pkt.

#### 4. Gewichte zusammenzählen.

Wie schwer sind diese Früchte?

	1 kg	500g	200 g	100 g	50 g	20 g	10 g	5 g	2 g	1 g	Gewicht
Apfel				1		2		1		1	_____ g
Kokosnuss		1		1	3			1	1	1	_____ g
Ananas		2	1		2	1	2	1		3	__ kg _____ g
Honigmelone		1	1	1	1	4		1	3	2	_____ g
Zitrone					1		3	3	3	1	_____ g

5 Pkt.

#### 5. Lege mit möglichst wenigen Gewichtssteinen.

	500g	200 g	100 g	50 g	20 g	10 g	5 g	2 g	1 g
235 g									
719 g									
876 g									
698 g									
987 g									

5 Pkt.

24 Pkt.

