

# Stunden und Minuten




## Lernkontrolle

### 1. Bestimme die Uhrzeit.

|   |   |   |
|---|---|---|
|  |  |  |
| vor dem Mittag <input type="text"/>   | vor dem Mittag <input type="text"/>   | vor dem Mittag <input type="text"/>   |
| nach dem Mittag <input type="text"/>  | nach dem Mittag <input type="text"/>  | nach dem Mittag <input type="text"/>  |

6 Pkt.

### 2. Zeichne den Stundenzeiger und den Minutenzeiger ein.

|   |   |   |
|---|---|---|
|  |  |  |
| 05:36   | 18:51   | 22:17   |

3 Pkt.

### 3. Ganze Stunden

Wie viele Minuten fehlen bis zur vollen Stunde? Trage die Minuten und die nächste volle Stunde in der Tabelle ein.

|       |                          |                      |
|-------|--------------------------|----------------------|
| 06:22 | <input type="text"/> min | <input type="text"/> |
| 11:41 | <input type="text"/> min | <input type="text"/> |

|           |                          |                      |
|-----------|--------------------------|----------------------|
| 19.07 Uhr | <input type="text"/> min | <input type="text"/> |
| 21.34 Uhr | <input type="text"/> min | <input type="text"/> |

4 Pkt.

## 4. Zeitdauer

Fülle die Tabellen aus.

| a. | Beginn | Ende  | Dauer |
|----|--------|-------|-------|
|    | 08:17  | 08:43 | min   |
|    | 23:42  | 23:58 | min   |

| b. | Beginn    | Ende      | Dauer  |
|----|-----------|-----------|--------|
|    | 22.24 Uhr |           | 28 min |
|    |           | 05.42 Uhr | 33 min |

4 Pkt.

## 5. Sachaufgaben.

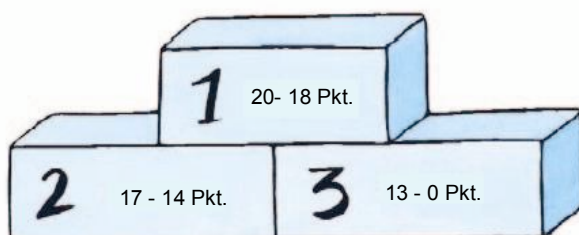
- Als Yoko nach 45 min die Gitarre weglegt, zeigt der Wecker 17:52.  
Wann hat sie mit dem Üben begonnen?
- Am Abend darf Lars noch eine Viertelstunde im Bett lesen.  
Wann muss er das Licht löschen, wenn er sich um 20.05 Uhr ins Bett legt?
- Julia will wissen, wie lange sie für die Rechenaufgaben braucht. Sie beginnt um 08.22 Uhr und beendet die letzte Rechnung um 08.50 Uhr.

3 Pkt.

## ★ 6. Abkürzung?

Ninos Training beginnt pünktlich um 17.50 Uhr. Mit dem Fahrrad braucht er 9 Minuten. Er muss dann aber noch seine Fußballschuhe anziehen, was 4 min dauert. Zu Fuss könnte er direkt über die Wiese gehen und die Fußballschuhe schon zu Hause anziehen. Gestern hat er die Abkürzung ausprobiert und ist um 17.30 Uhr daheim gegangen. Als er beim Fußballplatz ankam, hörte er die Kirchenuhr dreimal schlagen.

- Wann muss er mit dem Fahrrad daheim spätestens losfahren?
- Wie viel Zeit braucht er, wenn er zu Fuss geht?
- Ist der Weg zu Fuss über die Wiese eine Abkürzung?



20 Pkt.