

Der Zahlenstrahl

Lernkontrolle

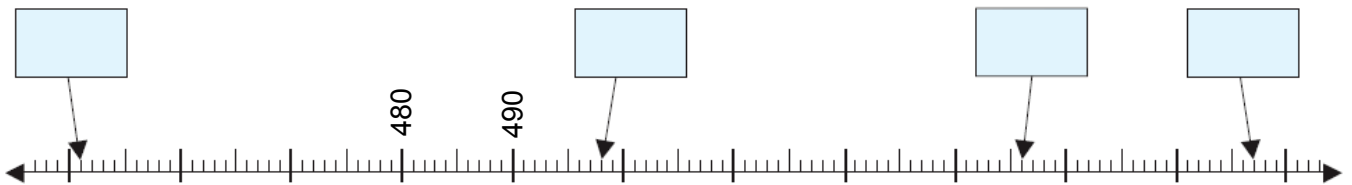
1. Notiere mit Punkten in der Stellwerttafel.

	<input type="text"/>	-	■
a.	642		
b.	793		

	<input type="text"/>	-	■
c.	287		
d.	456		

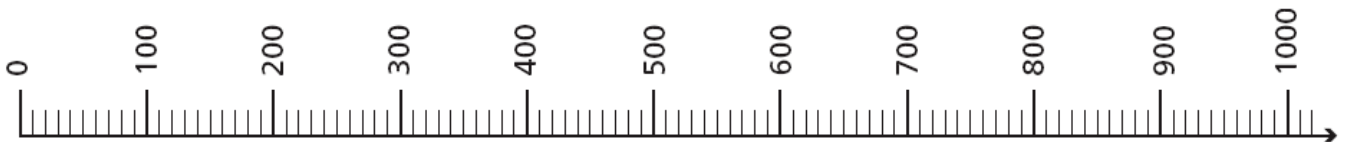
4 Pkt.

2. Schreibe die Zahlen in die leeren Felder.



4 Pkt.

3. Zähle in Schritten.



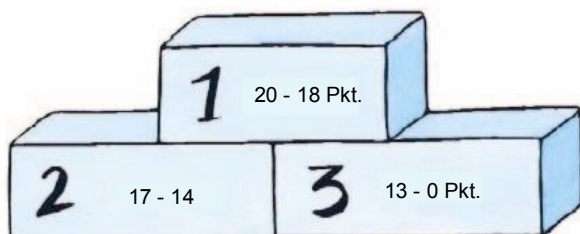
a.	+100	231				
b.	+50	507				
c.	-100	612				
d.	-50	775				

4 Pkt.

4. Ergänze auf 1000.

a.	600	<input type="text"/>	c.	380	<input type="text"/>	e.	<input type="text"/>	274	g.	66	<input type="text"/>
b.	810	<input type="text"/>	d.	432	<input type="text"/>	f.	509	<input type="text"/>	h.	<input type="text"/>	777

8 Pkt.



20 Pkt.