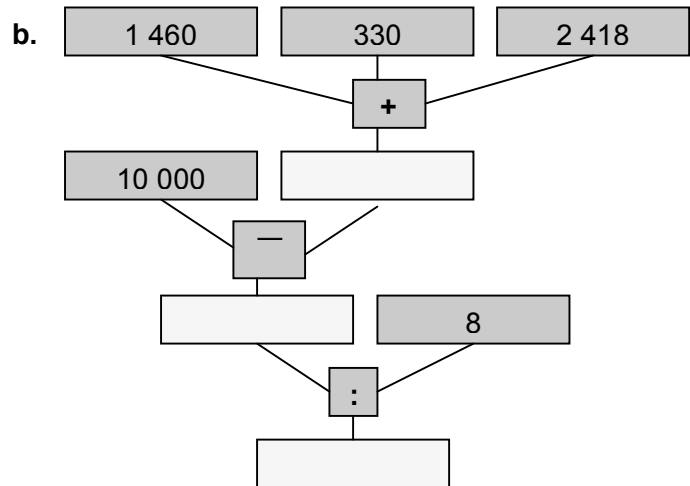
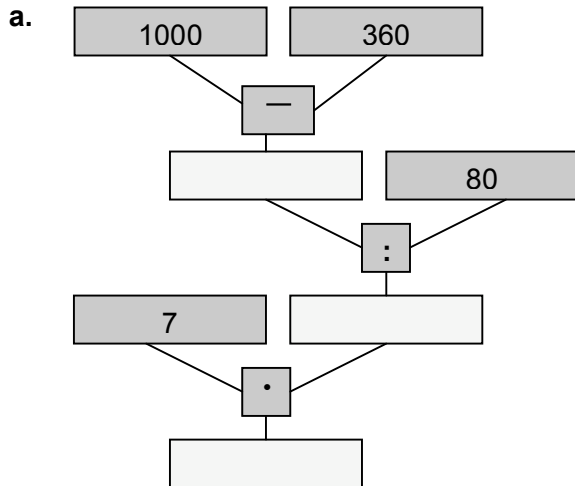


Rechenbäume Lernkontrolle

Ich kann mit Rechenbäumen rechnen.

Ich kann Operationen mit einem Rechenbaum darstellen.

1. Löse die Rechenbäume.




6 Pkt.

2. Löse die Zahlenrätsel mit einem Rechenbaum.

a. Addiere 460 und 284

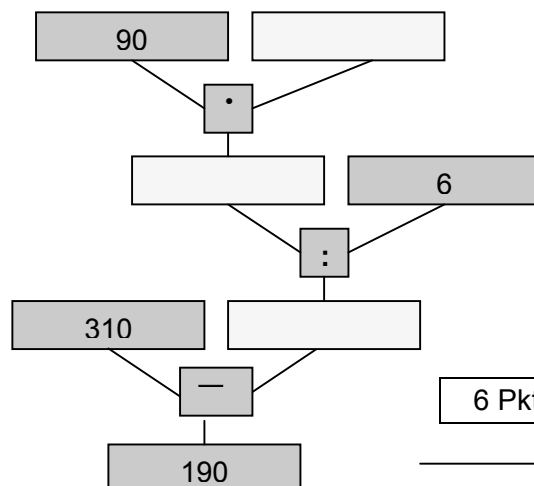
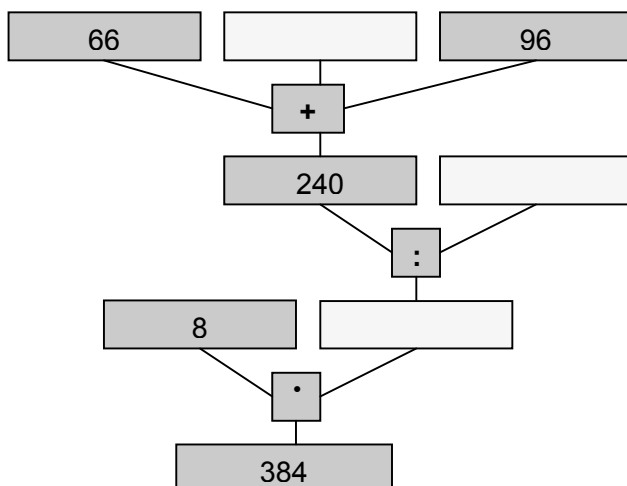
b. Dividiere die Summe von 34 und 54 durch 8

c. Multipliziere 78 mit 5 und subtrahiere vom Ergebnis die grösste zweistellige Zahl.



6 Pkt.

3. Ergänze die leeren Felder der Rechenbäume.



6 Pkt.

18 Pkt.