

Längen schätzen, messen und vergleichen Lernkontrolle

Ich kann die Bedeutung der Vorsätze „Milli“, „Zenti“, „Dezi“ und „Kilo“ deuten.

Ich kann Längen genau messen.

Ich kann Längen mit Masseinheiten angeben.

1. Kreuze die zutreffenden Aussagen an.

- Zenti**
- ist der hundertste Teil
 - ist ein Hundertstel
 - ist ein Zehntel

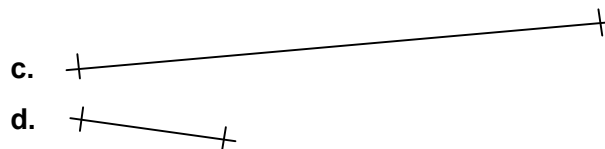

- Kilo**
- ist das Hundertfache
 - ist das Tausendfache
 - ist ein Tausendstel

- Milli**
- ist ein Tausendstel
 - ist ein Zehntel
 - ist ein Hundertstel

- Dezi**
- ist das Zehnfache
 - ist ein Hundertstel
 - ist ein Zehntel

4 Pkt.

2. Miss genau und trage ein.



a.

c.

b.

d.

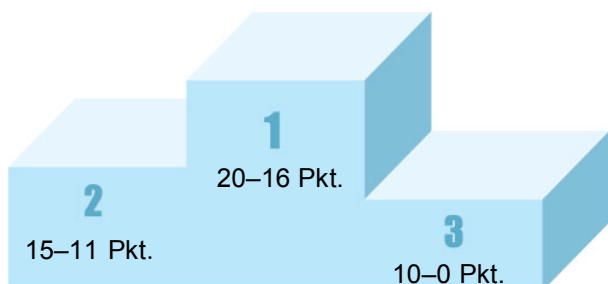
4 Pkt.

3. Wandle um.

3 km = _____ m
 25 km = _____ m
 400 cm = _____ m
 1 200 cm = _____ m
 5 000 mm = _____ m
 16 000 mm = _____ m

42 000 m = _____ km
 7 000 m = _____ km
 9 m = _____ km
 30 m = _____ km
 6 m = _____ km
 50 m = _____ km

12 Pkt.



20 Pkt.