

Würfel Lernkontrolle

Ich kann die Eigenschaften des Würfels benennen
Ich kann Würfelnetze zeichnen.

1. Ergänze.

- a. Der Würfel hat 8 .
- b. Ein Würfel hat 12 . Jede ist .
- c. Ein Würfel hat 6 . Jede ist und .

6 Pkt.

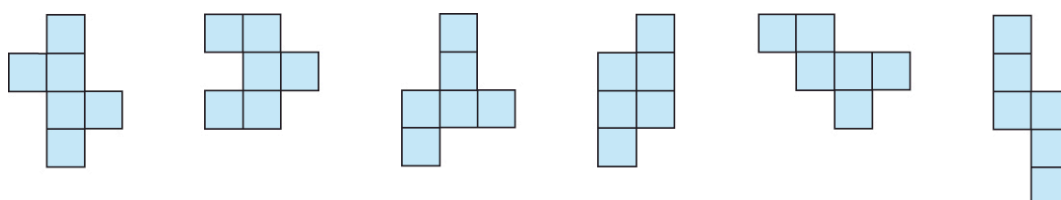
2. Würfelnetze

- a. Zeichne ein Würfelnetz.



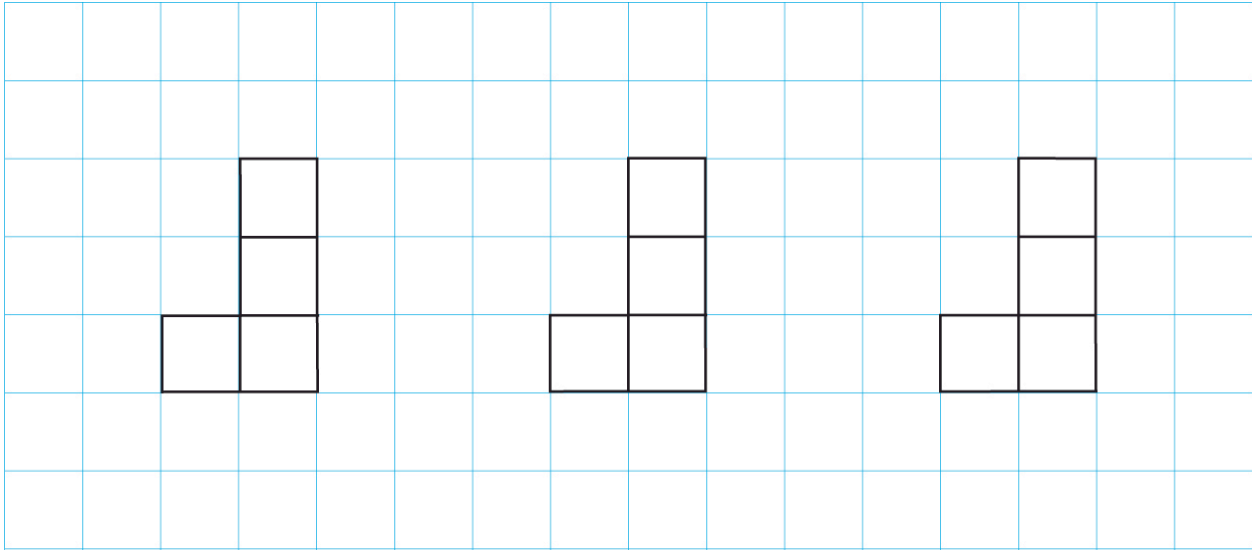
3 Pkt.

- b. Streiche die falschen Netze.



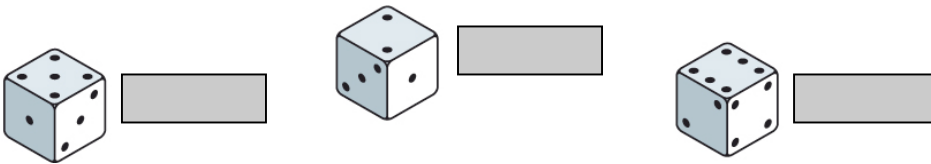
6 Pkt.

★ c. Ergänze die angefangenen Würfelnetze. Zeichne drei verschiedene Möglichkeiten.



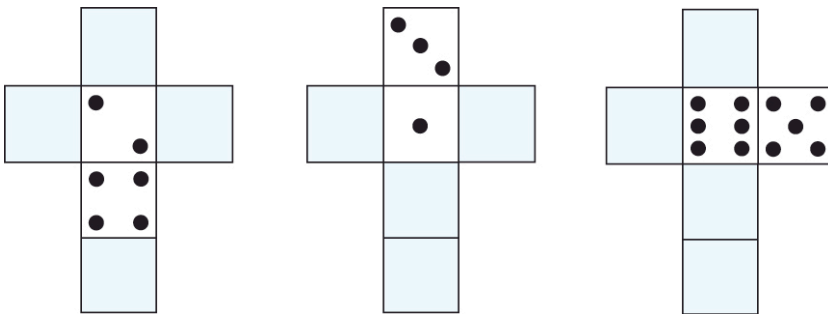
3. Spielwürfel.

a. Welche Augenzahl ist unten?

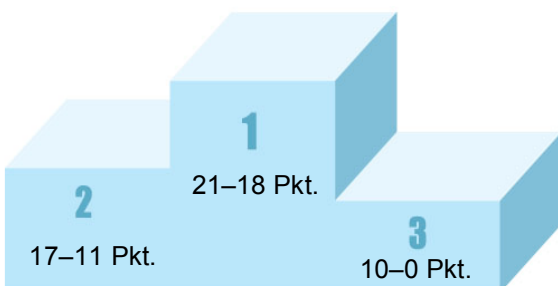


3 Pkt.

b. Ergänze.



3 Pkt.



21 Pkt.