

Geometrische Körper Lernkontrolle

Ich kann sechs geometrische Körper benennen und ihre Eigenschaften erkennen.

Ich kann die geometrischen Körper in meiner Umwelt erkennen.

Ich kann ihre Körpernetze erkennen.

1. Ordne.

a. Wähle von den abgebildeten Gegenständen je einen passenden aus und schreibe seinen Buchstaben in die Tabelle ein.



Würfel	Quader	Zylinder	Pyramide	Kegel	Kugel
					z.B. N
					6 Pkt. <input type="checkbox"/>

b.

--	--	--	--	--	--

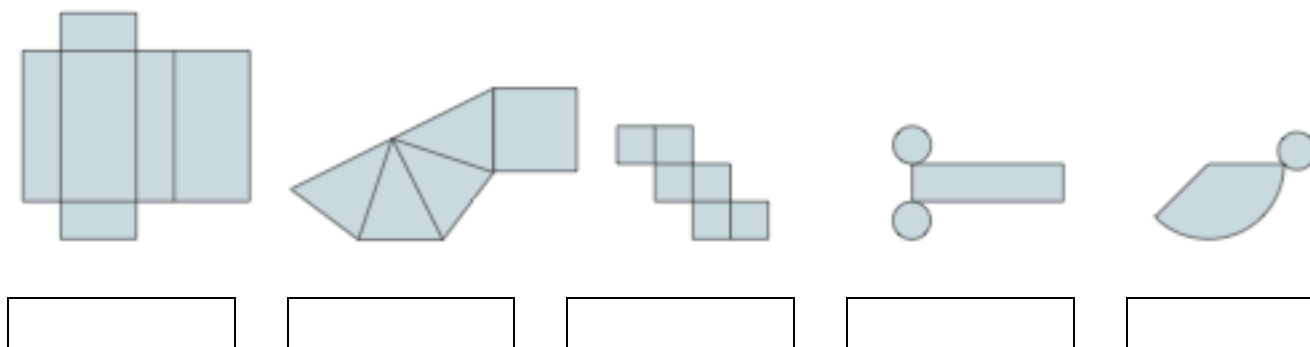
In welches Kästchen musst du L eintragen?

--	--	--	--	--	--

1 Pkt.

2. Körpernetze

Schreibe die Namen der fünf Körper, von denen du unten je ein Netz abgebildet siehst, in die Kästchen unter den Körpernetzen.

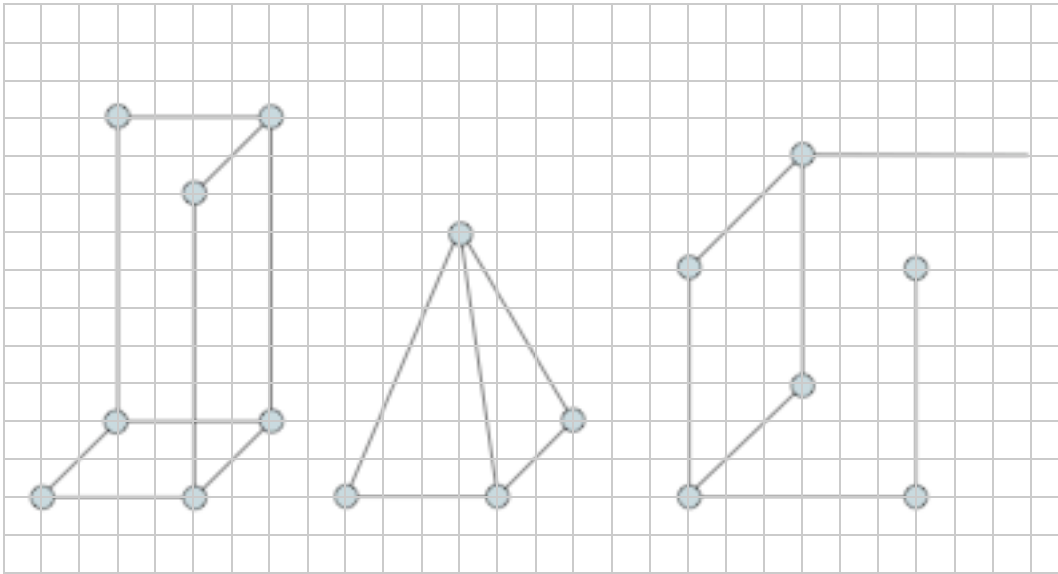


--	--	--	--	--

5 Pkt.

3. Kantenmodelle

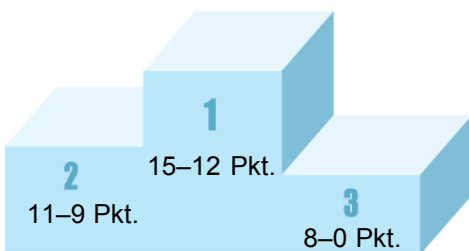
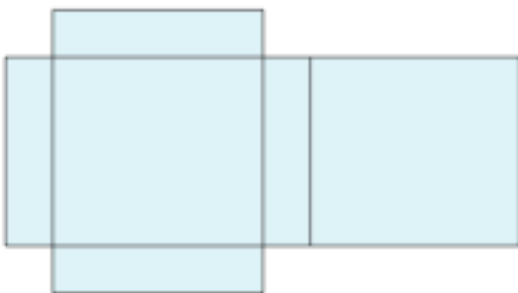
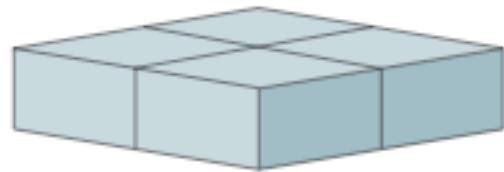
Zeichne die Kantenmodelle fertig.



3 Pkt.

4. Paket

Rechts siehst du ein Paket. Es ist in zwei Richtungen verschnürt. Zeichne den Verlauf der Schnur auf dem Netz ein und zwar in Längsrichtung (blau einzeichnen) und in Querrichtung (rot einzeichnen). Bedenke, dass die Schnur vier Seiten berührt.



15 Pkt.