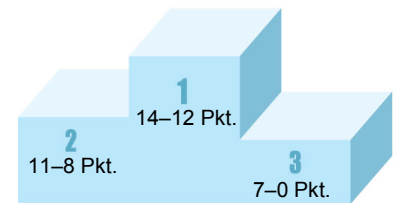


Umfang und Fläche Lernkontrolle

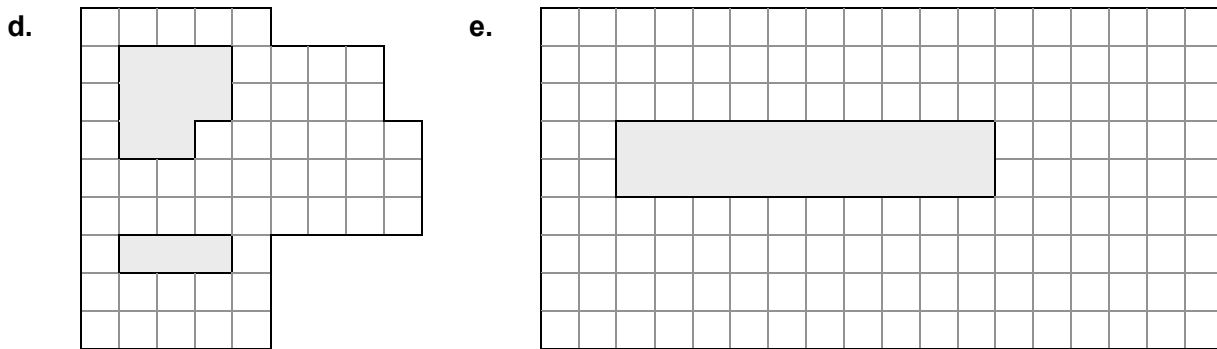
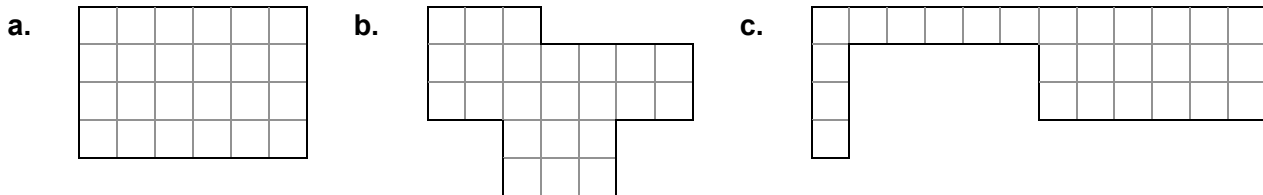
Ich kann die Begriffe Umfang und Fläche anwenden.

Ich kann den Umfang und die Fläche einer Figur bestimmen.



1. Umfang und Fläche bestimmen

Bestimme die Fläche und den Umfang der Figuren.
(Die graue Fläche gehört nicht zur Fläche der Figur.)




	Umfang	Fläche
a.		
b.		
c.		

	Umfang	Fläche
d.		
e.		

10 Pkt.

2. Figuren zeichnen

Zeichne Figuren nach den vorgegebenen Bedingungen.



4 Pkt.

14 Pkt.