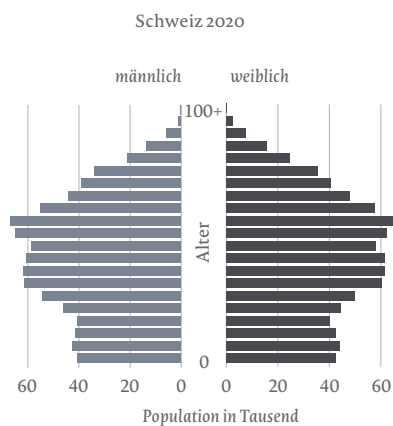
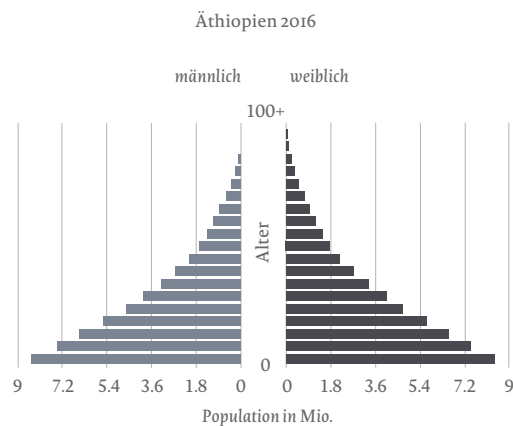
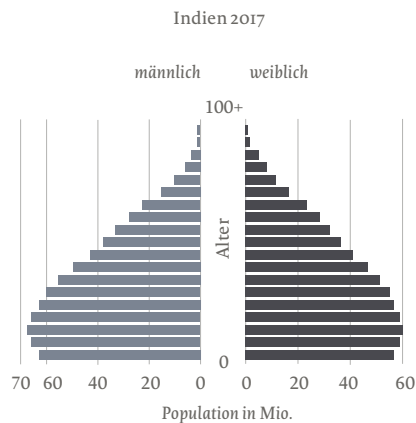


Aufgabe 4

Führe die Schritte zur Analyse eines Bevölkerungsdiagramms durch. Analysiere die Bevölkerung von Indien, der Schweiz und von Äthiopien. Du kannst auch das Video zu Hilfe nehmen, es zeigt dir die Formen eines Diagrammes.



Knobelaufgaben

1. Analysiere die Bevölkerungspyramide der Schweiz im Wandel der Zeit und mache eine Aussage dazu. Nutze dafür Angaben des Bundesamtes für Statistik via QR-Code.
2. Suche dir ein Land auf der Website «CIA World Factbook» und analysiere das Diagramm.

